



**ROTEIRO DE ATIVIDADES COMPLEMENTARES DE ESTUDO – COVID 19
6º ROTEIRO**

ALUNO (A): _____

ESCOLA MUNICIPAL PARIGOT DE SOUZA

PROFESSOR: CELIA VERRI E SUELI DUTRA

TURMA: SRM – GRUPO 1

COMPONENTES CURRICULARES: LÍNGUA PORTUGUESA E MATEMÁTICA

PERÍODO DE REALIZAÇÃO: 08/06/2020 A 12/06/2020

<p>QUERIDO (A) ALUNO (A) E FAMÍLIA! SEGUE O 6º ROTEIRO DE ATIVIDADES PARA REALIZAR. OUÇA O ÁUDIO EXPLICATIVO QUE ESTÁ DISPONÍVEL EM NOSSO GRUPO ANTES DE REALIZAR AS ATIVIDADES E ASSISTA ÀS AULAS PELO YOUTUBE OU PELO CANAL 5.2. LEIA TUDO COM BASTANTE ATENÇÃO E PEÇA AJUDA DE ALGUÉM DA SUA FAMÍLIA OU DA PROFESSORA PELO WHATSAPP SEMPRE QUE PRECISAR. SEU FILHO TERÁ O PERÍODO DE 08/06/2020 A 12/06/2020 PARA CONCLUIR ESSAS ATIVIDADES. CUIDEM-SE E CUIDEM DE SEUS FAMILIARES. EM BREVE TUDO ESTARÁ BEM. UM ABRAÇO DAS PROFESSORAS</p>	
<p>O QUE VOCÊ VAI ESTUDAR:</p>	<p>LÍNGUA PORTUGUESA: TRAVA-LÍNGUAS, RELACIONAR PALAVRAS À IMAGEM, TREINO DE LEITURA, INTERPRETAÇÃO E COMPREENSÃO DE TEXTO. MATEMÁTICA: SEQUENCIAÇÃO, ANTECESSOR E SUCESSOR, LATERALIDADE E LOCALIZAÇÃO.</p>
<p>PARA QUE VAMOS ESTUDAR ESSES CONTEÚDOS?</p>	<ul style="list-style-type: none"> • RECONHECIMENTO DAS FORMAS GEOMÉTRICAS. • DESENVOLVER A ATENÇÃO E O RACIOCÍNIO. • RELACIONAR IMAGEM COM ESCRITA. • ESCREVER PALAVRAS. • DESENVOLVER A LEITURA.
<p>COMO VAMOS REGISTRAR O QUE APRENDEMOS?</p>	<ul style="list-style-type: none"> • FAÇA UM POUCO POR DIA, SEGUINDO AS DATAS E AS AULAS NA TV. • PRESTE ATENÇÃO NOS COMANDOS AO LADO DE CADA ATIVIDADE, QUE ESTARÁ INDICANDO COMO VOCÊ DEVERÁ FAZER. • ORGANIZE SEUS ESTUDOS! • EM SUAS ATIVIDADES COLOQUE A DATA EM QUE IRÁ REALIZÁ-LAS.
<p>COMO VAMOS ESTUDAR OS CONTEÚDOS?</p>	<ul style="list-style-type: none"> • EM SEU CADERNO COLOQUE A DATA OU CABEÇALHO COMPLETO EM QUE IRÁ REALIZAR AS ATIVIDADES. • QUEM ESTÁ FAZENDO EM FOLHA IMPRESSA NÃO PRECISA FAZER NO CADERNO TAMBÉM. SOMENTE NA FOLHA.

**SECRETARIA MUNICIPAL DE EDUCAÇÃO
ATIVIDADES COMPLEMENTARES DE ESTUDO – COVID 19**

SEGUNDA-FEIRA - 08/06/2020

LÍNGUA PORTUGUESA

LEIA O TRAVA-
LÍNGUA

SAPO, COM A
AJUDA DE
ALGUÉM DA
SUA FAMÍLIA.

LEIA E RESPONDA:

TRAVA-LÍNGUA



OLHA O SAPO DENTRO
DO SACO
O SACO COM O SAPO
DENTRO
O SAPO BATENDO PAPO
E O PAPO DO SAPO
SOLTANDO VENTO.

RESPONDA AS
PERGUNTAS
MARCANDO
COM UM "X" NA
RESPOSTA
CORRETA.

ESTE TEXTO É:

- () UM POEMA () UMA PARLENDIA
() UM TRAVA – LÍNGUA () UM BILHETE

O ANIMAL QUE APARECE NO TEXTO É UM:

- () PATO () SAPO () GATO

O SAPO ESTÁ DENTRO:

- () DO SAPO () DA SOPA
() DO SACO () DA SALA

**SECRETARIA MUNICIPAL DE EDUCAÇÃO
ATIVIDADES COMPLEMENTARES DE ESTUDO – COVID 19**

ENUMERE AS
FRASES NA
ORDEM
CORRETA E
ESCREVA-A NA
LINHA BAIXO.



OS TRAVA-LÍNGUAS NOS AJUDAM A APRENDER DE UMA FORMA BEM DIVERTIDA. MAS ESSE ESTÁ ESCRITO FORA DE ORDEM. VAMOS ORGANIZAR O TRAVA-LÍNGUA ESCRREVENDO NA ORDEM CORRETA? NUMERE AO LADO DE CADA PARTE PARA AJUDAR NA ORGANIZAÇÃO.



	O SAPO BATENDO PAPO
	O SAPO DENTRO DO SACO
	E O PAPO SOLTANDO VENTO.
	O SACO COM O SAPO DENTRO

TERÇA-FEIRA - 09/06/2020

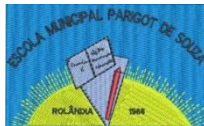
LÍNGUA PORTUGUESA

LEIA O TRAVA-LÍNGUA E CIRCULE AS PALAVRAS TIC-TAC:

PASSA TEMPO, TIC-TAC
TIC-TAC, PASSA HORA
CHEGA LOGO, TIC-TAC
TIC-TAC, VAI-TE EMBORA
PASSA, TEMPO
BEM DEPRESSA
NÃO ATRASA
NÃO DEMORA ...

LEIA O TRAVA-
LÍNGUA: **TIC-
TAC** E
CIRCULE AS
PALAVRAS QUE
SE PEDE.





SECRETARIA MUNICIPAL DE EDUCAÇÃO
ATIVIDADES COMPLEMENTARES DE ESTUDO – COVID 19

MATEMÁTICA

COMPLETE NA SEQUÊNCIA CORRETA OS NÚMEROS DE 1 A 10.

1- COMPLETE AS SEQUÊNCIAS NUMÉRICAS:

QUEM ESTÁ FALTANDO?

1	2	3	4	5	6	7	8	9	10
---	---	---	---	---	---	---	---	---	----

1		2		4		
2						
3...	6		8		10	

QUEM ESTÁ FALTANDO?

1	2	3	4	5	6	7	8	9	10
---	---	---	---	---	---	---	---	---	----

1	1		3		5	
2						
3...		7		9		

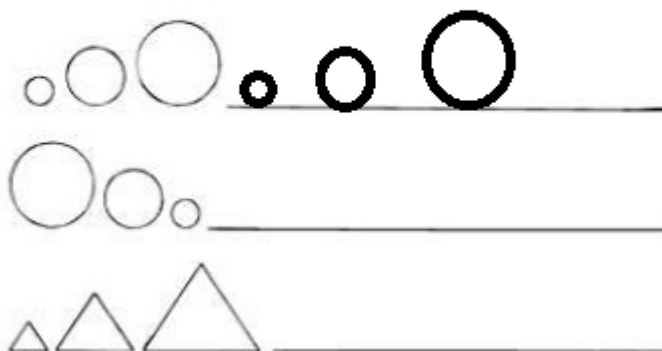
QUARTA-FEIRA - 10/06/2020

MATEMÁTICA

1- DESENHE SEGUINDO A ILUSTRAÇÃO DAS FORMAS GEOMÉTRICAS:

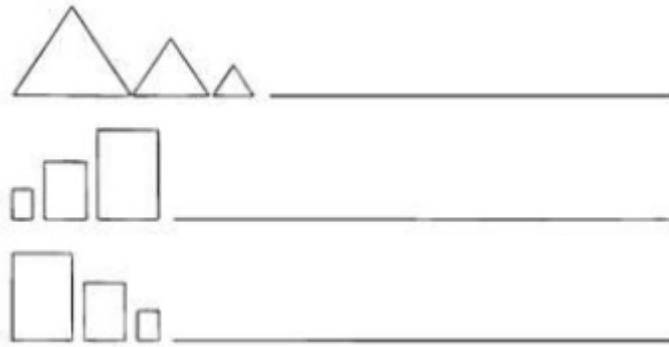
ATIVIDADES DE SEQUENCIAÇÃO

REPITA AS SEQUÊNCIAS COMO NO EXEMPLO:




COMPLETE A SEQUÊNCIA SEGUINDO AS FORMAS GEOMÉTRICAS.

**SECRETARIA MUNICIPAL DE EDUCAÇÃO
ATIVIDADES COMPLEMENTARES DE ESTUDO – COVID 19**



2-OBSERVE OS DESENHOS E MARQUE O CERTO.

OBSERVE O
DESENHO COM
MUITA
ATENÇÃO E
LOCALIZE OS
OBJETOS QUE
ESTÃO A
DIREITA E A
ESQUERDA DO
MENINO.



- a) - A LATA DE TINTA ESTÁ:
 DO LADO DIREITO DO MENINO.
 DO LADO ESQUERDO DO MENINO.

- b)- O MENINO ESTÁ:
 DO LADO DIREITO DA MAÇÃ.
 DO LADO ESQUERDO DA MAÇÃ.

- c)- A MAÇÃ ESTÁ:
 ENTRE A LATA E O GATO.
 ENTRE O GATO E O MENINO.


SEXTA-FEIRA - 12/06/2020

MATEMÁTICA


1) OBSERVE O MALABARISTA E PINTE OS DESENHOS DE ACORDO COM O QUE ELE FAZ.

FIQUE NA
MESMA
DIREÇÃO DO
MALABARISTA
PARA
IDENTIFICAR
OS OBJETOS.


A) COM A MÃO **ESQUERDA, ELE EQUILIBRA:**



B) COM O PÉ **ESQUERDO, ELE EQUILIBRA:**



C) COM A MÃO **DIREITA, ELE EQUILIBRA:**



AGORA, DEVE
ACOMPANHAR
A SUA DIREITA
E A SUA
ESQUERDA,
OLHANDO
PARA A
ATIVIDADE.

**OBS: SETA
DIREITA:
VERMELHO.**

**SETA
ESQUERDA:
VERDE.**

2) AS SETAS INDICAM A DIREÇÃO EM QUE AS PIPAS VOAM.

**A) PINTE DE VERMELHO AS PIPAS QUE VOAM PARA A
DIREITA.**

**B) PINTE DE VERDE AS PIPAS QUE VOAM PARA A
ESQUERDA.**

